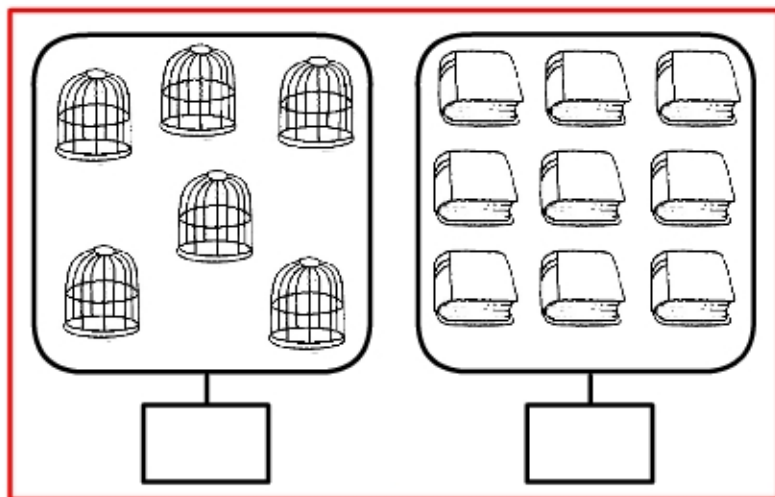


Addizioni 8

COMPLETA I CARTELLINI E SCRIVI L'ADDIZIONE



GABBIE \longrightarrow

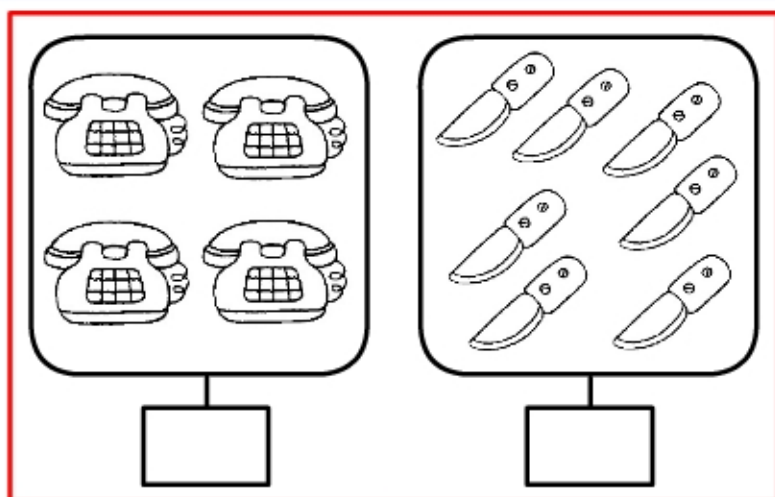
LIBRI \longrightarrow

IN TUTTO \longrightarrow

___ + ___ = ___



SEI PIÙ NOVE UGUALE



TELEFONI \longrightarrow

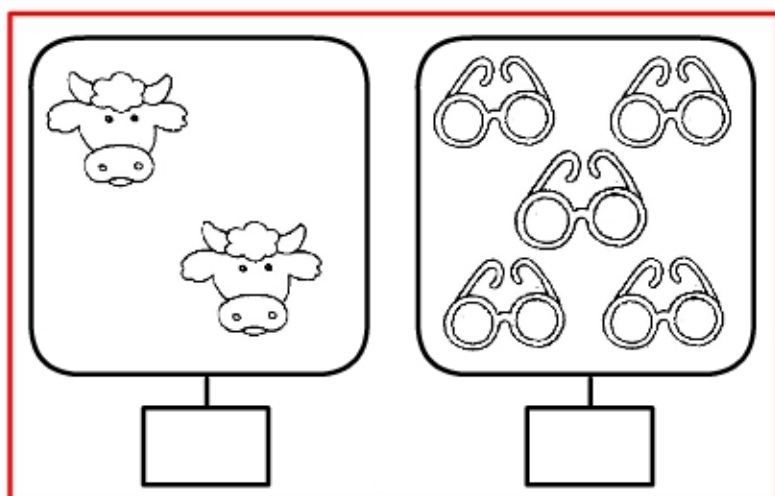
COLTELLI \longrightarrow

IN TUTTO \longrightarrow

___ + ___ = ___



QUATTRO PIÙ SETTE UGUALE



MUCCHE \longrightarrow

OCCHIALI \longrightarrow

IN TUTTO \longrightarrow

___ + ___ = ___



DUE PIÙ CINQUE UGUALE