


Addizioni 5

COMPLETA I CARTELLINI E SCRIVI L'ADDIZIONE



LEONI \longrightarrow

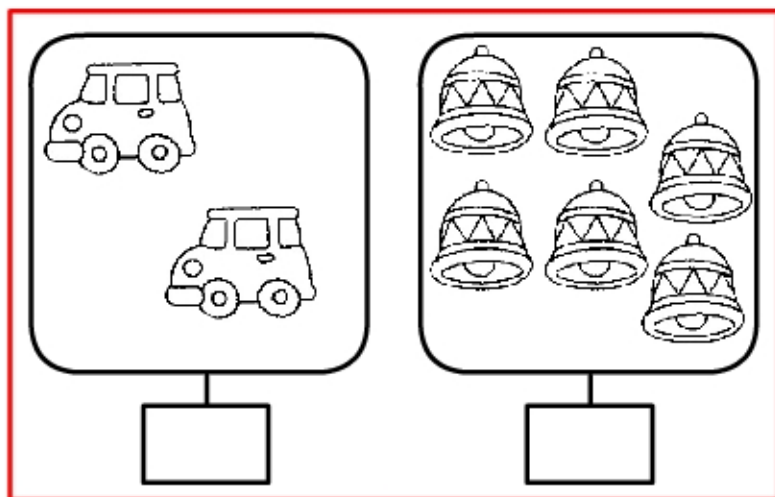
CANI \longrightarrow

IN TUTTO \longrightarrow

___ + ___ = ___



CINQUE PIÙ DUE UGUALE



AUTO \longrightarrow

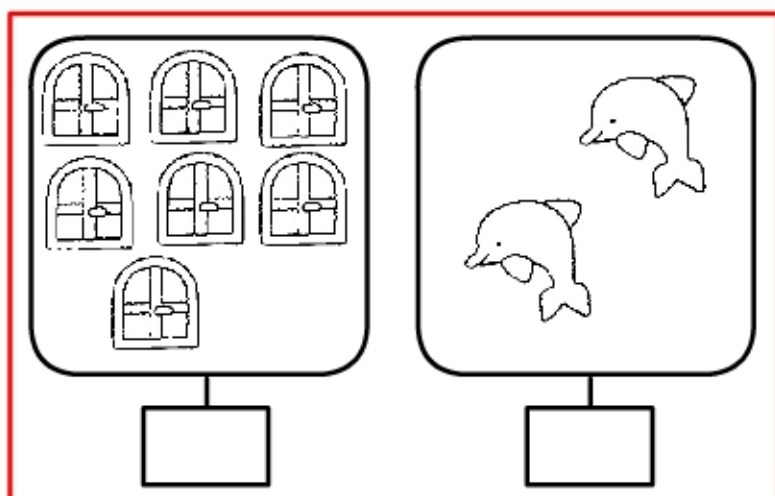
CAMPANE \longrightarrow

IN TUTTO \longrightarrow

___ + ___ = ___



DUE PIÙ SEI UGUALE



FINESTRE \longrightarrow

DELFINI \longrightarrow

IN TUTTO \longrightarrow

___ + ___ = ___



SETTE PIÙ DUE UGUALE