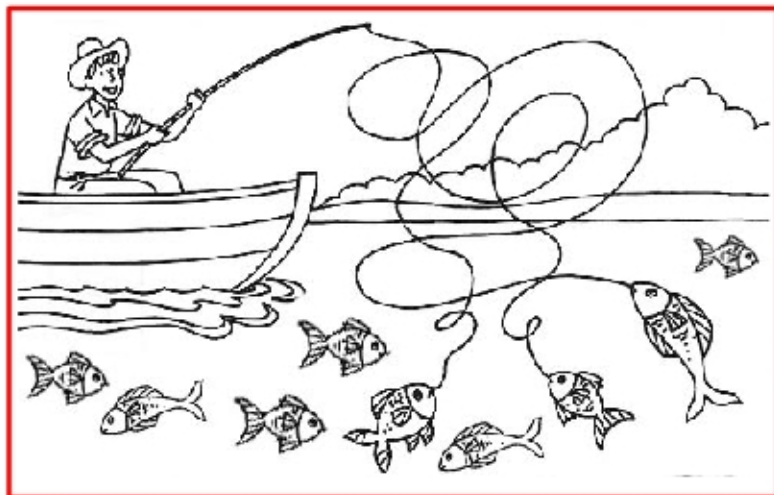


Sottrazioni 9

OSSERVA, COMPLETA I CARTELLINI E SCRIVI L'OPERAZIONE



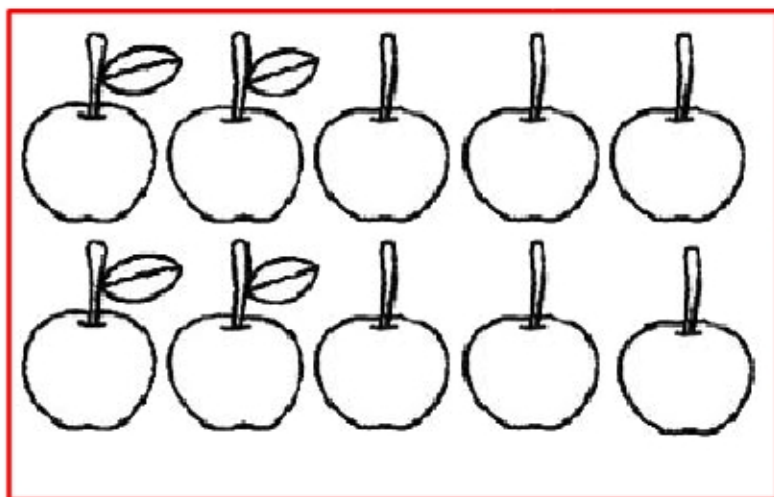
PESCI IN TUTTO

PESCI ALL'AMO

PESCI IN MARE

_____ - _____ = _____

NOVE MENO UGUALE




MELE IN TUTTO

MELE SENZA FOGLIA

MELE CON FOGLIA

_____ - _____ = _____

.....MENO SEI UGUALE



GELATI IN TUTTO

GELATI SENZA CILIEGIA

GELATI CON CILIEGIA

_____ - _____ = _____

QUINDICI MENO UGUALE