


Sottrazioni 7

OSSERVA, COMPLETA I CARTELLINI E SCRIVI L'OPERAZIONE



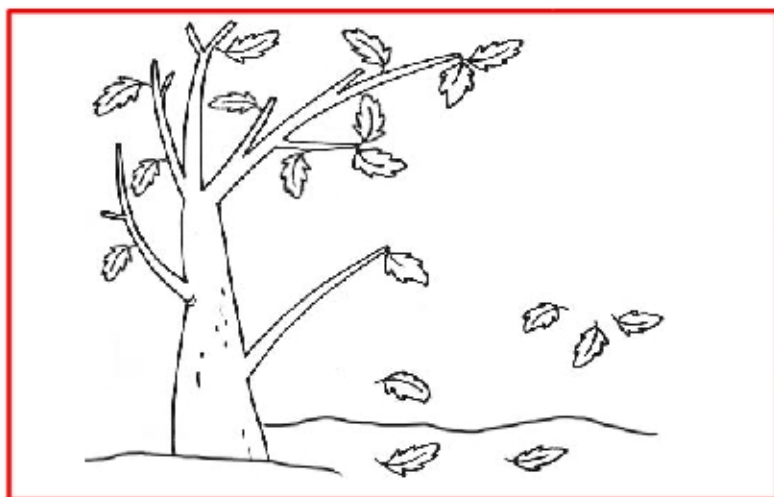
FIORI IN TUTTO

FIORI CADUTI

FIORI NEL VASO

$$\underline{\quad} - \underline{\quad} = \underline{\quad}$$

..... MENO QUATTRO UGUALE




FOGLIE IN TUTTO

FOGLIE CADUTE

FOGLIE SUI RAMI

$$\underline{\quad} - \underline{\quad} = \underline{\quad}$$

..... MENO UGUALE



CONIGLI IN TUTTO

CONIGLI CON CODA

CONIGLI SENZA CODA

$$\underline{\quad} - \underline{\quad} = \underline{\quad}$$

QUINDICI MENO UGUALE