


# Sottrazioni 1

OSSERVA, COMPLETA I CARTELLINI E SCRIVI L'OPERAZIONE




UOVA IN TUTTO

UOVA ROTTE

UOVA RIMASTE

\_\_\_ - \_\_\_ = \_\_\_

QUATTRO MENO DUE UGUALE .....




LUCCHETTI IN TUTTO

LUCCHETTI APERTI

LUCCHETTI CHIUSI

\_\_\_ - \_\_\_ = \_\_\_

SEI MENO TRE UGUALE .....



CANDELE IN TUTTO

CANDELE SPENTE

CANDELE ACCESE

\_\_\_ - \_\_\_ = \_\_\_

CINQUE MENO QUATTRO UGUALE .....