

Raggruppa e completa

Raggruppa per 2



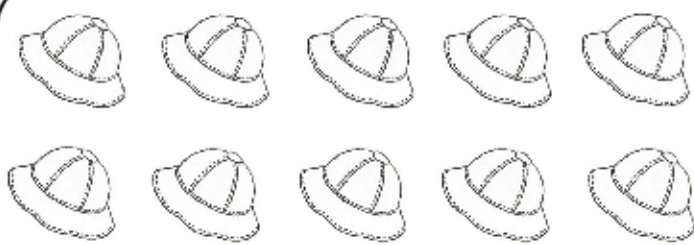
Il 2 sta nel 12 volte

$$12 : 2 = \square$$



Il 2 sta nell' 8 volte

$$8 : 2 = \square$$




Il 2 sta nel 10 volte

$$10 : 2 = \square$$



Il 2 sta nell' 6 volte

$$6 : 2 = \square$$



Il 2 sta nel 16 volte

$$16 : 2 = \square$$




Il 2 sta nell' 18 volte

$$18 : 2 = \square$$



Il 2 sta nel 20 volte

$$20 : 2 = \square$$



Il 2 sta nell' 14 volte

$$14 : 2 = \square$$