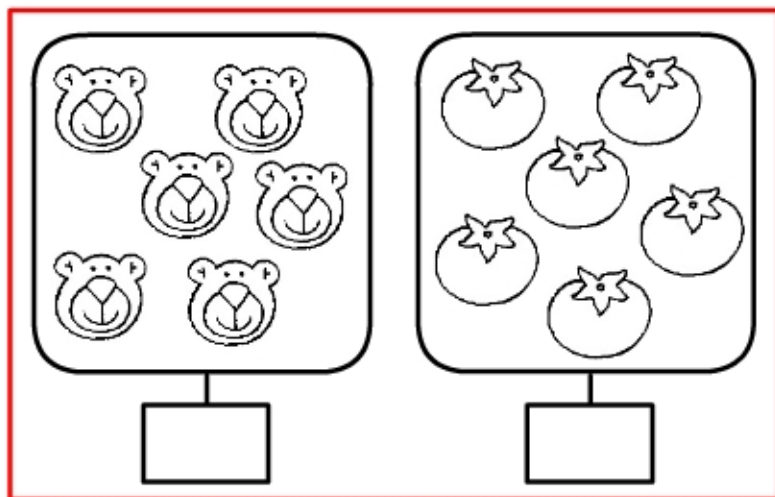


Addizioni 9

COMPLETA I CARTELLINI E SCRIVI L'ADDIZIONE



ORSI \longrightarrow

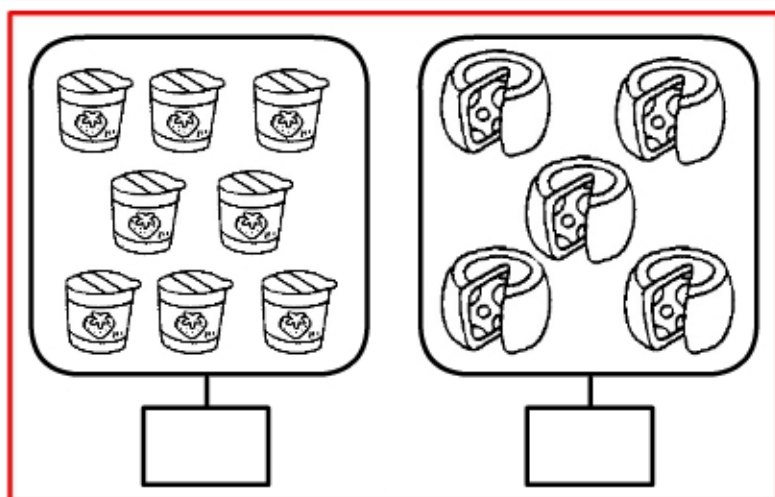
POMODORI \longrightarrow

IN TUTTO \longrightarrow

___ + ___ = ___



SEI PIÙ SEI UGUALE



YOGURT \longrightarrow

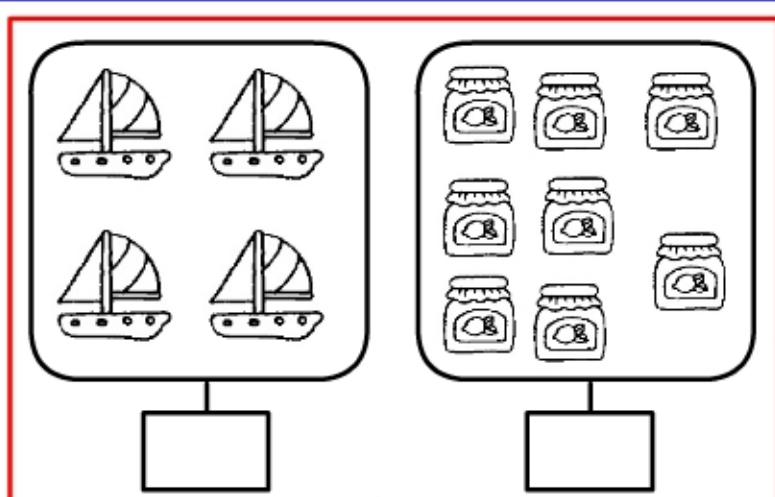
FORMAGGI \longrightarrow

IN TUTTO \longrightarrow

___ + ___ = ___



OTTO PIÙ CINQUE UGUALE



BARCHE \longrightarrow

VASETTI \longrightarrow

IN TUTTO \longrightarrow

___ + ___ = ___



QUATTRO PIÙ OTTO UGUALE